



RAONAMENT
VERBAL



RAONAMENT
ABSTRACTE



RAONAMENT
NUMÈRIC



ATENCIÓ I
PERCEPCIÓ



SIMULACRES
D'EXAMEN



DA VINCI

PSICOTÈCNICS

per **opositors**

Primera edició: **Juny del 2026**

Dipòsit Legal: **DL T 811-2026**

ISBN: **979-13-991948-0-7**

© Edició: **iOpos**



Aquest llibre no és un producte oficial de la Policia de la Generalitat – Mossos d’Esquadra ni de la Generalitat de Catalunya i no es fa responsable del contingut de l’obra i/o de les opinions que els autors manifestin en ella.

Imprès a Catalunya.

El paper utilitzat per imprimir aquest llibre és 100% lliure de clor i, per tant, ecològic.

FORMACIÓ COMPLETA PER SUPERAR LA CONVOCATÒRIA 2026

TOTS ELS CURSOS QUE NECESSITES EN UN SOL LLOC.



JA DISPONIBLE!

CURS PRESENCIAL MOSSOS D'ESQUADRA (30 HORES)

- Temari
- Àmbits A, B, C i D
- Psicotècnics
- Guia coneixements de franc
- Dossier Psicos de regal
- Accés campus online



JA DISPONIBLE!

CURS MOSSOS D'ESQUADRA 2026 (ÀMBITS A, B, C I D)

- Temari específic
- Actualitat
- Psicotècnics
- Fitxes, vídeos, resums, exercicis...
- Classes en directe



JA DISPONIBLE!

CURS POLICIA LOCAL ONLINE PREMIUM

- Temari oficial
- Actualitat
- Cultura general
- Psicotècnics



JA DISPONIBLE!

CURS ONLINE DE PSICOTÈCNICS 2026

- Passa de zero a l'excel·lència
- Prepara't per qualsevol policia:
 - Mossos d'Esquadra
 - Policia Local
 - Guàrdia Urbana



JA DISPONIBLE!

SIMULACRE D'ENTREVISTA DE POLICIES LOCALS I MOSSOS D'ESCUADRA

- Basada en preparació oficial
- Màxima personalització



JA DISPONIBLE!

PREPARACIÓ D' ENTREVISTES A POLICIA LOCAL I MOSSOS

- Simulem entrevistes reals i treballem les teves respostes perquè transmetis seguretat, claredat i convicció davant el tribunal.



Tot disponible a www.iopos.es

PREPARA LES TEVES OPOSICIONS AMB ELS LLIBRES D'iOpos!



ESCANEJA
PER ACONSEGUIR
ELS LLIBRES!

Materials actualitzats, rigorosos i dissenyats per donar-te la **millor preparació** en cada fase del procés selectiu.



Les **1001 preguntes** imprescindibles per ser Mosso d'Esquadra



Guia Ràpida Coneixements Mossos d'Esquadra 2026




Dossier Esquematzat Mossos d'Esquadra 2026



Guia Bàsica de la Preparació d'Entrevista per Mosso d'Esquadra




Les **1001 preguntes** imprescindibles per ser Guàrdia Urbana de Barcelona



Les **1001 preguntes** imprescindibles de Cultura General



Pack Temari Guàrdia Urbana de Barcelona



Guia d'Accés per a Polícies Locals de Catalunya



Resolució de Casos Pràctics Policials



Pensar com un Caporal: Casos pràctics i criteri professional



Llibre **Psicotècnics Aptitudinals**



120 Casos d'Entrevista Policial

ÍNDEX

01 | L'HOME DE VITRUVI PÀG. 02

| | |
|----------------------------|---------|
| Exercicis Numèrics | PÀG. 03 |
| Exercicis Espacials | PÀG. 09 |
| Exercicis Verbals | PÀG. 15 |
| Exercicis Abstractes | PÀG. 19 |
| Simulacre | PÀG. 23 |
| Solucions | PÀG. 52 |

02 | EL CARGOL AERI PÀG. 60

| | |
|----------------------------|---------|
| Exercicis Numèrics | PÀG. 61 |
| Exercicis Espacials | PÀG. 73 |
| Exercicis Verbals | PÀG. 82 |
| Exercicis Abstractes | PÀG. 92 |
| Solucions | PÀG. 98 |

03 | PARACAIGUDES PIRAMIDAL PÀG. 107

| | |
|----------------------------|----------|
| Exercicis Numèrics | PÀG. 108 |
| Exercicis Espacials | PÀG. 124 |
| Exercicis Abstractes | PÀG. 131 |
| Exercicis Verbals | PÀG. 142 |
| Solucions | PÀG. 155 |

04 | LA MÀQUINA DE L'HORIZÓ PÀG. 166

| | |
|----------------------------|----------|
| Exercicis Numèrics | PÀG. 167 |
| Exercicis Espacials | PÀG. 175 |
| Exercicis Abstractes | PÀG. 183 |
| Exercicis Verbals | PÀG. 189 |
| Solucions | PÀG. 192 |

Càlcul de percentatges

1. Quin percentatge és **550** sobre **5.000**?
a. 11% b. 25% c. 15% d. 20%
2. Quin és el **85%** de **600**?
a. 525 b. 515 c. 510 d. 520
3. Quin és el **7%** de **1.700**?
a. 412 b. 427 c. 512 d. 119
4. Quin és el **52%** de **1.500**?
a. 780 b. 760 c. 795 d. 810
5. Quin és el **23%** de **9.200**?
a. 2.116 b. 2.161 c. 2.147 d. 2.121
6. Quin percentatge és **135** sobre **500**?
a. 21% b. 42% c. 27% d. 36%
7. Quin és el **31%** de **5.000**?
a. 1.580 b. 1.610 c. 1.550 d. 1.485
8. Quin és el **99%** de **2.400**?
a. 2.399 b. 2.376 c. 2.352 d. 2.378
9. Tenim actualment una plantilla de **1.700 bombers** i s'incrementarà un **10% de forma anual**, quants bombers tindrem d'aquí **2 anys** en plantilla?
a. 2.057 b. 1.957 c. 1.989 d. 2.120

Regles de tres

1. A l'institut del meu poble hi ha **5 professors**, que corregeixen tots els exàmens en **14 hores**. Si a l'estiu hi ha **3 professors menys**, en quant de temps corregiran tots els exàmens?

- a. 28 h b. 35 h c. 6 h d. 23 h

2. El dipòsit d'aigua d'un poble té **150L** i s'omple en **100 segons**, quant trigarà a omplir-se un dipòsit de **480L**?

- a. 320 s b. 450 s c. 150 s d. 285 s

3. Si contractem **16 obrers** per a fer una obra, i triguen **10 dies**, quants dies trigarien si acomiadem **6 obrers**?

- a. 21 b. 14 c. 18 d. 16

4. Dues rodes estan unides per una corretja transmissora. La primera té un radi de **5 cm** i la segona de **15 cm**. Quan la segona ha donat **10 voltes**, quantes voltes haurà donat la primera?

- a. 25 b. 30 c. 36 d. 40

5. **7 persones** poden viure en un hotel durant **15 dies**. Quant de temps podran viure **21 persones**?

- a. 55 dies b. 30 dies c. 45 dies d. 25 dies

6. Ahir **3 camions** van transportar una mercaderia des del port fins al magatzem. Avui **5 camions**, iguals als d'ahir, hauran de fer **3 viatges** per a transportar la mateixa quantitat de mercaderia del magatzem al centre comercial. Quants viatges van haver de fer ahir els camions?

- a. 5 b. 6 c. 7 d. 4

7. El dipòsit d'un cotxe té **40L** i s'omple en **80 segons**, si tenim un altre dipòsit que s'omple en **120 segons**, quina serà la capacitat d'aquest segon dipòsit?

- a. 45 L b. 60 L c. 80 L d. 75 L

Càlcul de probabilitat

1. Si llancem dos daus a l'aire quina probabilitat hi ha que el número que surti sigui **igual o menor que 4**?

- a. $1/9$ b. $1/6$ c. $2/9$ d. $1/36$

2. Si trenco la meva guardiola on hi ha **3 monedes**, i totes cauen a terra, quina és la probabilitat que **totes caiguin amb la cara cap a baix**?

- a. $2/8$ b. $1/8$ c. $3/8$ d. $5/8$

3. Si llenço una moneda **5 cops**, quina serà la probabilitat que en surti **més vegades la cara que la creu**?

- a. $12/32$ b. $2/32$ c. $20/32$ d. $18/32$

4. S'extreu una bola d'una urna que conté **3 boles blaves, 4 blanques i 8 negres**. Quina és la probabilitat que la bola sigui **blava o negra**?

- a. $8/15$ b. $11/15$ c. $3/15$ d. $5/15$

5. Una classe consta de **12 homes i 18 dones**; la meitat dels homes i la meitat de les dones tenen els ulls blaus. Determinar la probabilitat que una persona triada a l'atzar sigui **un home o tingui els ulls blaus**.

- a. $12/30$ b. $18/30$ c. $21/30$ d. $23/30$

6. Tenim per a enviar **tres cartes** amb els seus **tres sobres** corresponents. Si fem al atzar cada carta en un dels sobres, quina és la probabilitat que **almenys una de les cartes vagi en el sobre que li correspon**?

- a. $2/3$ b. $4/5$ c. $1/3$ d. $2/5$

7. En una urna hi ha **18 boles numerades**. Extraiem una bola a l'atzar i observem el número que té. Quina és la probabilitat d'extraure **una bola amb un número parell**?

- a. $1/2$ b. $2/18$ c. $18/9$ d. $8/18$

Càlcul de combinatòria

1. A una reunió assisteixen **14 persones** i s'intercanvien salutacions entre tots. Quantes salutacions s'han intercanviat?
- a. 98 b. 91 c. 86 d. 32
2. A l'organització d'un torneig de tennis s'ha d'emparellar a **8 persones**, quantes parelles diferents es podran fer?
- a. 18 b. 22 c. 28 d. 35
3. Amb les lletres de la paraula **pedra**, quantes ordenacions diferents es poden fer que comencin per vocal?
- a. 54 b. 42 c. 36 d. 48
4. Quantes combinacions es poden fer si volem que **5 persones** s'asseguin a **5 cadires**?
- a. 60 b. 120 c. 100 d. 80
5. Quants partits diferents es poden organitzar amb **6 equips** de rugbi?
- a. 15 b. 12 c. 14 d. 17
6. Quantes cites diferents podem organitzar a una aplicació de cites en parella si tenim **8 participants**?
- a. 35 b. 28 c. 15 d. 21
7. A una classe de **25 alumnes**, de quantes formes diferents poden escollir **al delegat i al subdelegat**?
- a. 700 b. 400 c. 500 d. 600
8. A un concurs televisiu de **13 persones**, quants equips de 3 persones podem organitzar?
- a. 286 b. 243 c. 321 d. 342

Equacions

1. Si el meu cosí té **6 anys més que el meu gos**, i jo tinc **el doble d'anys que el meu gos**, si jo tinc **14 anys**, quants anys té el meu cosí?

- a. 18 b. 14 c. 13 d. 12

2. **El doble d'un número menys 6 és igual a 8**. Quin és aquest número?

- a. 4 b. 6 c. 7 d. 8

3. Laura té **8 anys més que la seva germana Paula**, i quan Paula tingui els anys que ara té Laura les edats d'ambdues **sumaran 44 anys**. Quina edat té cadascuna ara?

- a. 18 i 10 b. 23 i 15 c. 20 i 12 d. 16 i 8

4. Troba tres números consecutius la suma dels quals sigui **66**.

5. Deixem el cotxe en un aparcament durant **3 hores**. Per a pagar **donem 8€** i **ens retornen 2€**. A quant cobren l'hora?

- a. 2€ b. 1€ c. 3€ d. 4€

6. En una classe hi ha **8 noies més que nois**. Si el grup està format per **36 persones**, quants nois hi ha en aquesta classe?

- a. 18 b. 14 c. 16 d. 12

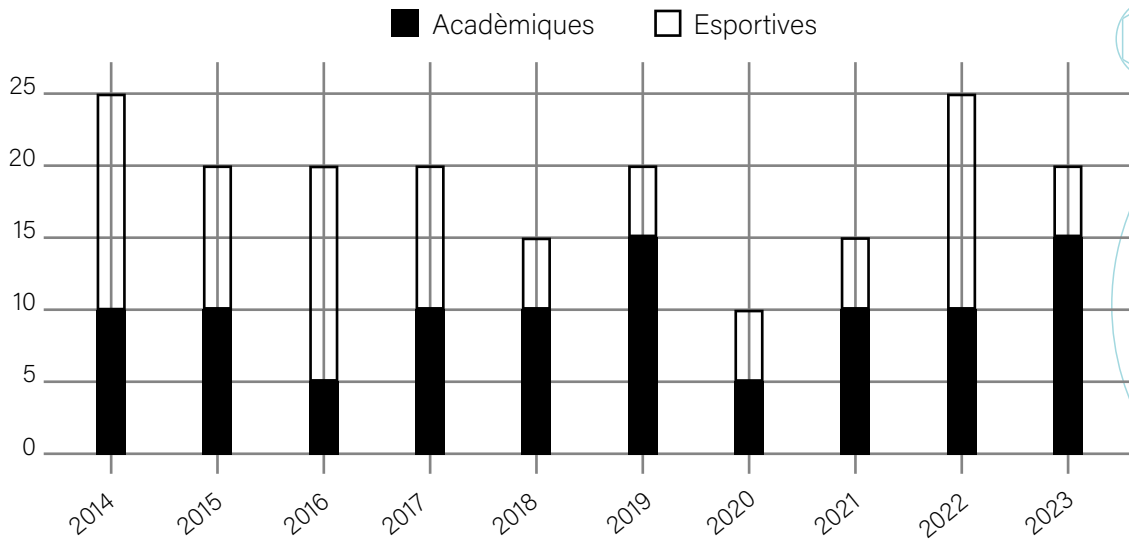
7. Calcula les longituds dels costats d'un rectangle, sabent que el seu perímetre és de **50 metres** i que un dels costats mesura **5 metres menys que l'altre**?

- a. 7 i 12 b. 8 i 13 c. 9 i 14 d. 10 i 15

8. Calcula tres nombres imparells consecutius la suma dels quals sigui 99.

Gràfica

El següent gràfic mostra les activitats realitzades per un campus d'estiu durant els últims 10 anys:



1. Tenint en compte les activitats acadèmiques realitzades, quina diferència hi ha entre 2017 i 2021?

- a. 5 b. 10 c. 0 d. 15

2. Quina diferència hi ha, en valor absolut, entre les activitats esportives de 2015 i les activitats acadèmiques de 2019?

- a. 10 b. 5 c. 15 d. 0

3. Quina és la mitjana d'activitats acadèmiques realitzades aquests 10 anys?

- a. 10 b. 15 c. 5 d. 20

4. Quina és la diferència, en valor absolut, entre la mitjana d'ambdues modalitats durant els primers 5 anys?

- a. 8 b. 11 c. 15 d. 18

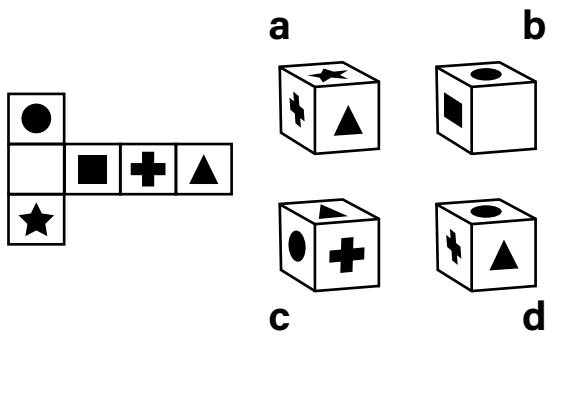
5. Tenint en compte les activitats realitzades en 2014 i en 2023 d'ambdues modalitats, quina diferència hi ha en valor absolut entre aquestes?

- a. 0 b. 5 c. 10 d. 15

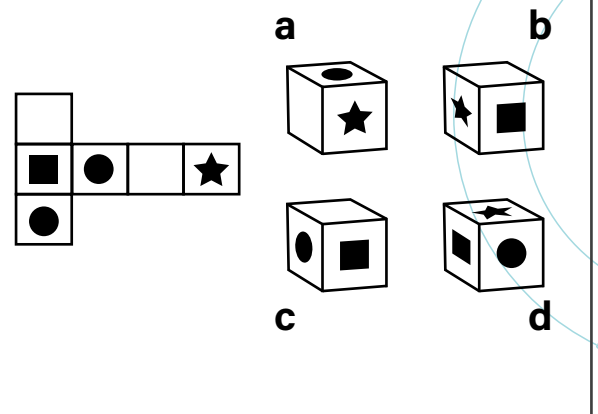
Cubs desplecats

Indica quin dels següents cubs correspon al desplegable un cop formada la figura:

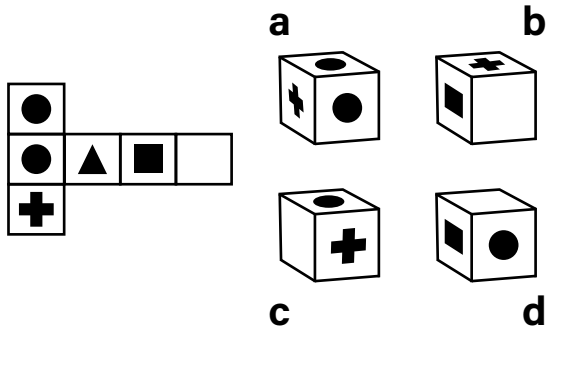
1.



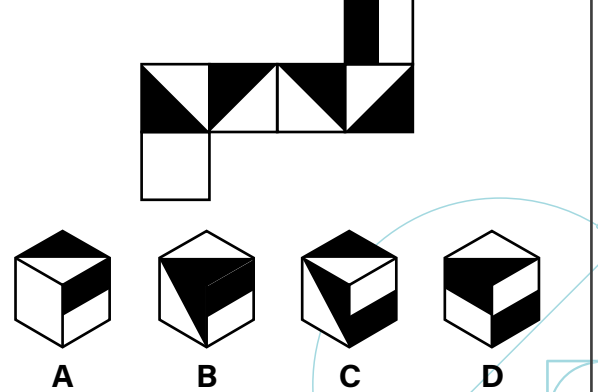
2.



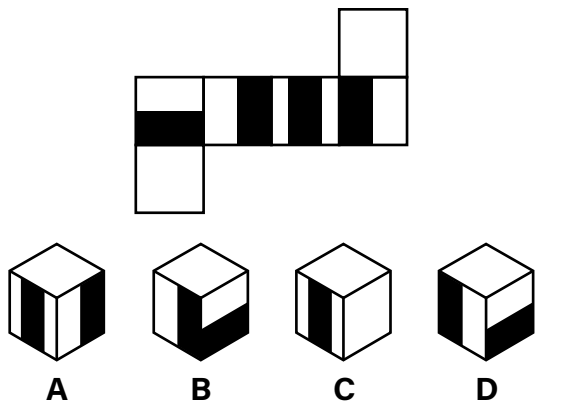
3.



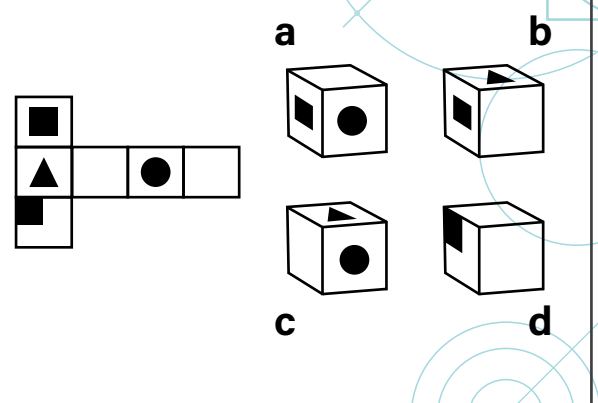
4.



5.



6.



7.

A B C D

8.

A B C D

9.

A B C D

10.

a b
c d

11.

a b
c d

12.

A B C D

13.

a b
c d

14.

a b
c d

Cubs en plànol

Quin és el número que quedarà a la part SUPERIOR del dau quan es desplaçi rodant al camp marcat amb una X?

RECORDEU: la suma del costats oposats d'un dau sempre és set.

1. _____

a. 2
b. 4
c. 3
d. 1

2. _____

a. 2
b. 1
c. 3
d. 4

3. _____

a. 1
b. 4
c. 5
d. 3

4. _____

a. 3
b. 5
c. 1
d. 2

5. _____

a. 4
b. 2
c. 5
d. 1

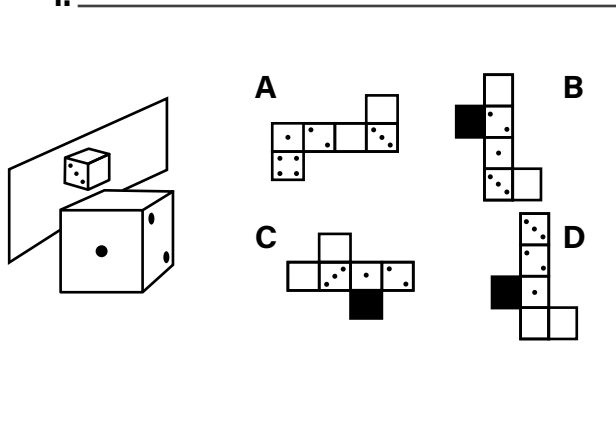
6. _____

a. 1
b. 4
c. 6
d. 2

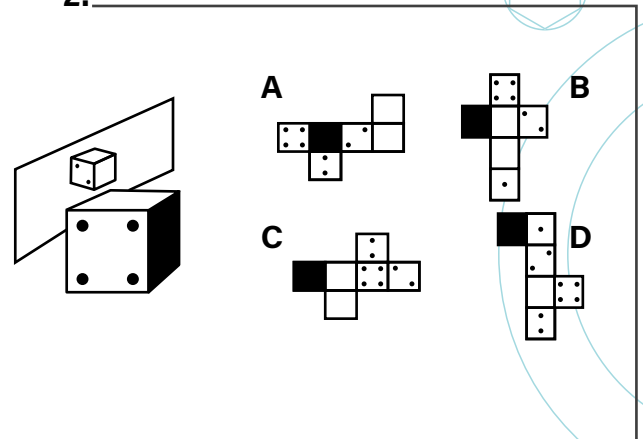
Cubs mirall

Es presenta un cub i un mirall, on es mostren les cares ocultes. Indica quina de les següents opcions, un cop formades, representen el cub del mirall:

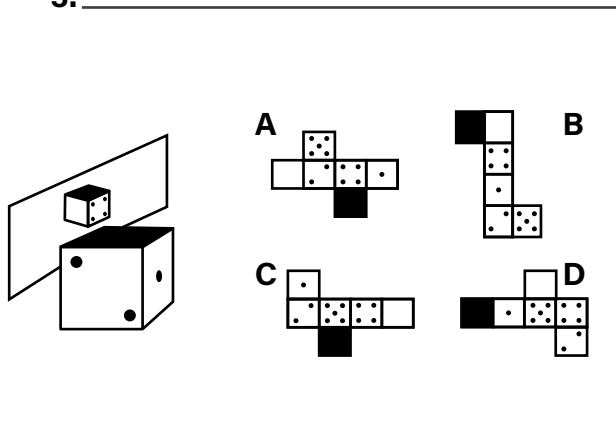
1.



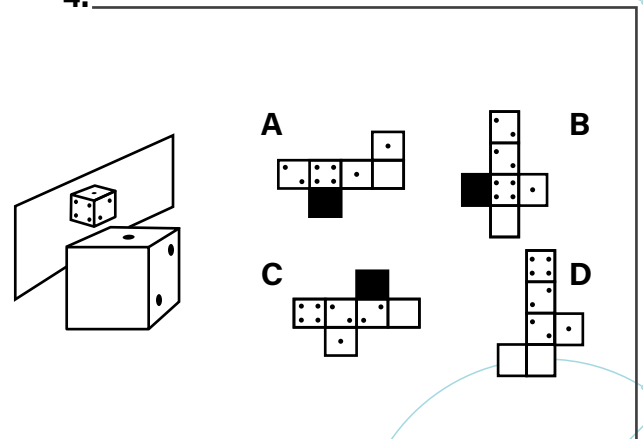
2.



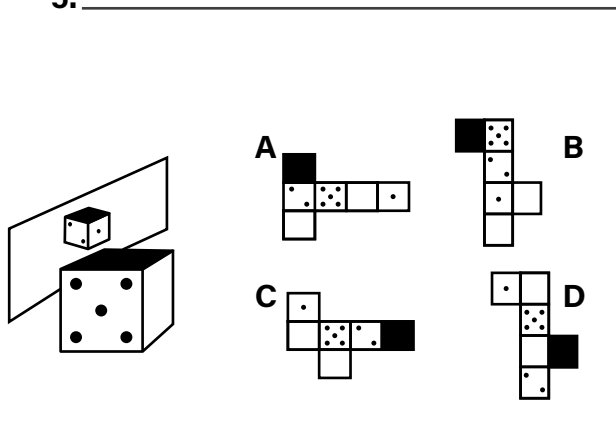
3.



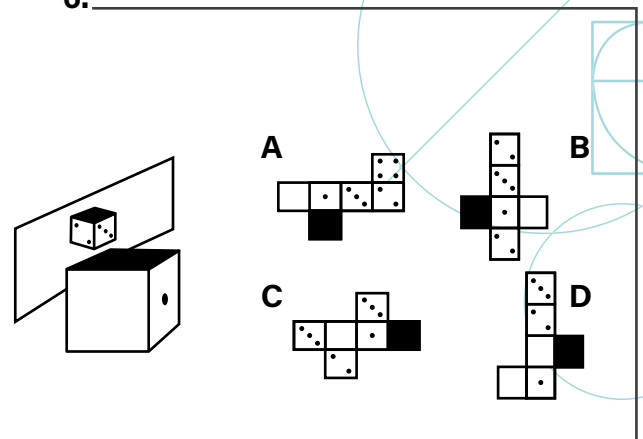
4.



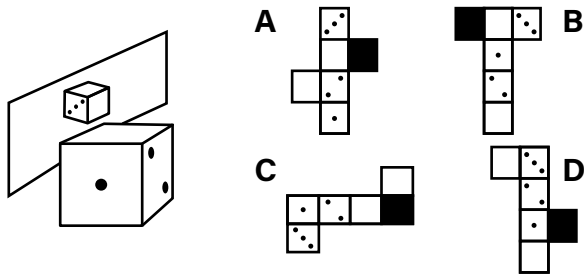
5.



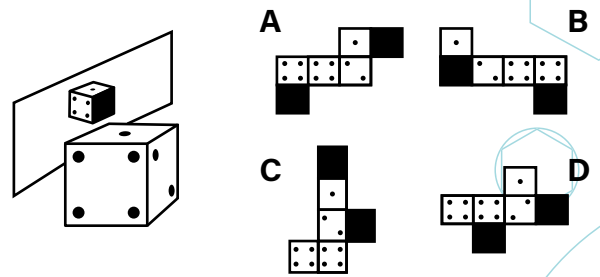
6.



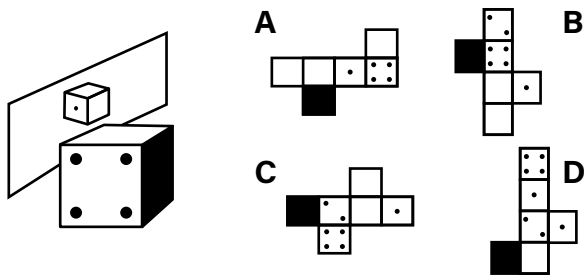
7.



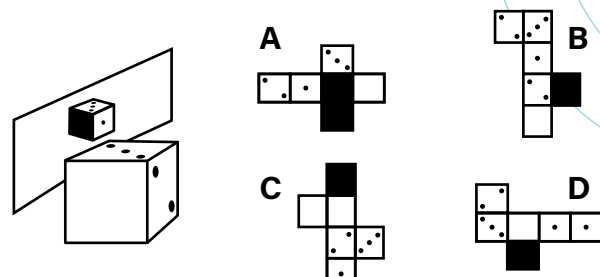
8.



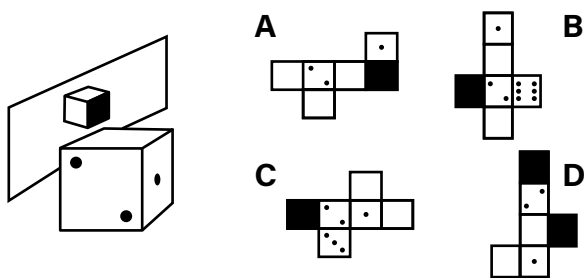
9.



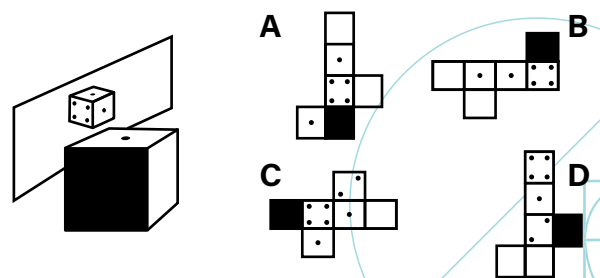
10.



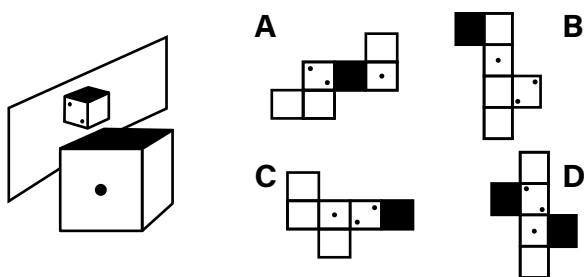
11.



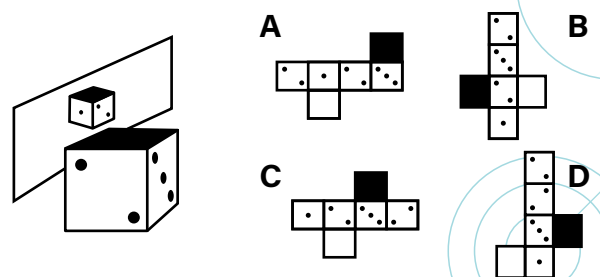
12.



13.



14.



Sinònims

Indica quina és la paraula amb un significat més **semblant** al de la paraula indicada:

1. Espaiós

- a.** Rugós **b.** Esbarjós **c.** Estret **d.** Estrafolari

2. Plural

- a.** Complex **b.** Homogeni **c.** General **d.** Pareller

3. Eufemisme

- a.** Descuit **b.** Error **c.** Atenuació **d.** Desesment

4. Habitual

- a.** Metec **b.** Aliat **c.** Frívol **d.** Deforer

5. Vulgar

- a.** Decorós **b.** Virtuós **c.** Estrany **d.** Anodí

6. Exempt

- a.** Droguer **b.** Exonerat **c.** Tender **d.** Subjugat

7. Remissió

- a.** Demora **b.** Fuent **c.** Accelerat **d.** Exponencial

8. Antic

- a.** Degà **b.** Debutant **c.** Tiró **d.** Novici

9. Locució

- a.** Obertura **b.** Expressió **c.** Exclamació **d.** Mínim

Antònims

Indica quina és la paraula amb un significat més **distint** al de la paraula indicada:

1. Variant

- a. Mutable b. Estàtic c. Variable d. Arterós

2. Singular

- a. Dantesc b. Estrany c. Parió d. Polimorf

3. Present

- a. Circumstant b. Renovat c. Atàvic d. Innovador

4. Imperatiu

- a. Bàsic b. Ineluctable c. Indeclinable d. Eventual

5. Exemplar

- a. Decorós b. Inhonest c. Elogiable d. Perfecte

6. Clàssic

- a. Acostumat b. Antanyàs c. Avançat d. Consuetudinari

7. Menut

- a. Boix b. Nan c. Banal d. Majúscul

8. Suprem

- a. August b. Celestial c. Planificat d. Esmenable

9. Natural

- a. Condició b. Humor c. Nadiu d. Paradoxal

Comprensió lectora

Llegeix el text que tens a continuació i contesta les preguntes proposades:

S'ha demostrat que el ball és un dels millors antídots contra l'estrès i el mal humor. És un gran estimulants en la producció de endorfines, les hormones del benestar.

Ballar és una espècie de meditació activa que permet allunyar de la ment les preocupacions i tensions, atorgant-li al cos una llibertat que habitualment li neguem.

Tots podem connectar-nos amb nostra més íntima essència si deixem que sigui el cos qui assumeixi la seva capacitat guaridora, encara que això res té a veure amb els deu minuts de gimnàstica que puguem practicar diàriament.

Les recerques confirmen que el ball augmenta la creativitat i l'autoestima. La persona se sent més relaxada, receptiva i plena d'energia. Llavors, en tornar del treball o de l'estudi, ball a casa. No importa el tipus de música que prefereixi, perquè a vegades no es necessita d'una cançó per a deixar que el seu cos s'alliberi a través del ball. Parlem de la música interior, del ritme que el seu cos és capaç d'expressar taral·larejant o cantant a ple pulmó per a alliberar el que sent. Tots tenim una melodia interna que la ment reconeix com una partitura amb la qual alliberar els sentiments atrapats. Potser és una cançó sencera o unes notes soltes. No importa només necessita deixar que soni en el seu interior i que el seu cos segueixi el so.

1. Quin títol expressa millor la idea central del text?

- a. Que el cos segueixi el ritme musical.
- b. Amb el ball en el cos.
- c. El ball és millor que l'exercici.
- d. Més salut amb el ball.

2. El text no evidencia que el ball garantixi la:

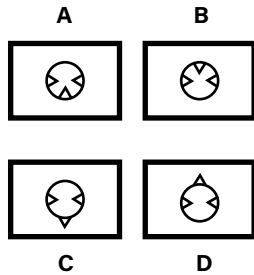
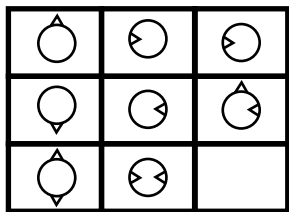
- a. Felicitat.
- b. Relaxació.
- c. Creativitat.
- d. Autoestima.

3. L'autor destaca del ball la seva:
- a. Condició d'antídot contra l'estrès i el mal humor.
 - b. Bondat en l'estimulació de les hormones del benestar.
 - c. Capacitat guaridora de cos i ment.
 - d. Virtut d'alleujar tensions i preocupacions.
4. Quin dels següents termes té una major aproximació al sentit en el qual s'empra la paraula ball?
- a. Exercici.
 - b. Endorfines.
 - c. Creativitat.
 - d. Reflexió.
5. L'autor recomana sobretot que...
- a. Es faci més exercicis físics amb música.
 - b. Es canti o es taral·laregi per a reforçar els sentiments.
 - c. La música domini la nostra essència més íntima.
 - d. Es mediti activament mitjançant el ball.
6. L'autor afirma que tots tenim...
- a. Una melodia interna.
 - b. Moltes ganes de ballar.
 - c. Molta creativitat.
 - d. Endorfines.
7. Quin efecte té el ball sobre la sensació d'energia?
- a. Fa que les persones se sentin plenes d'energia.
 - b. Consumeix l'energia.
 - c. No té efecte.
 - d. Fa que les persones se sentin buides d'energia.

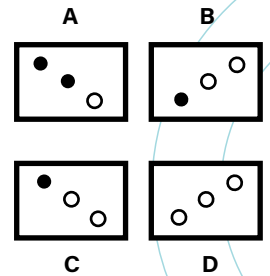
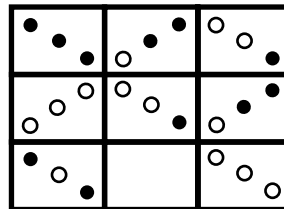
Matrius

Indica quina de les següents imatges completa millor la matriu proposada:

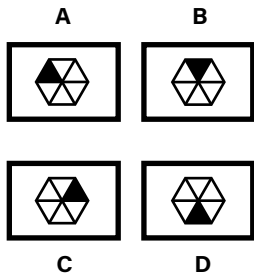
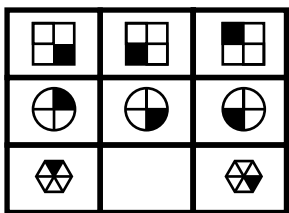
1.



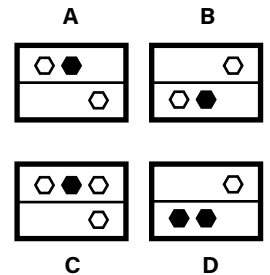
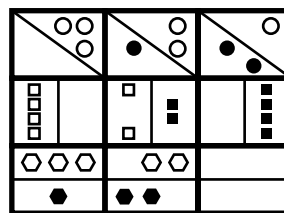
2.



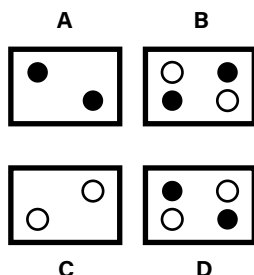
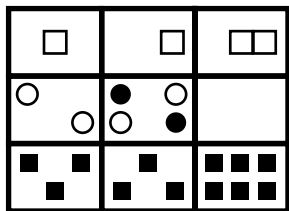
3.



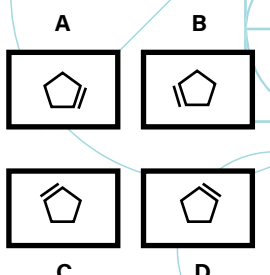
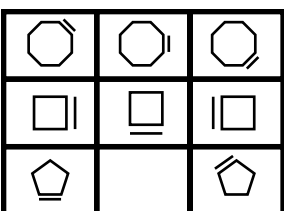
4.



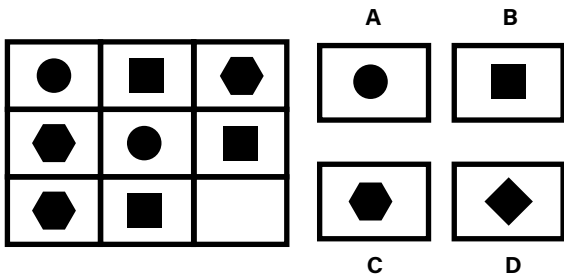
5.



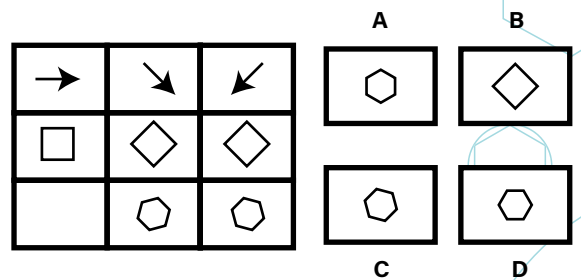
6.



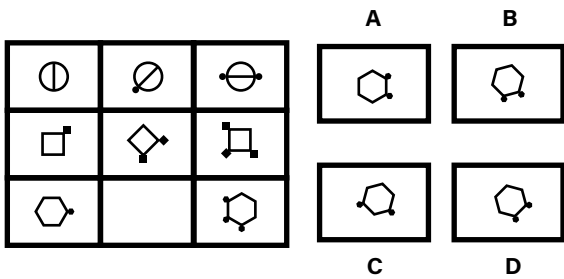
7.



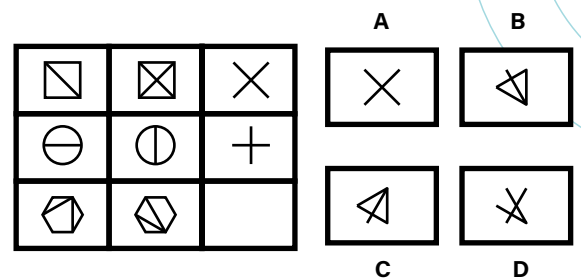
8.



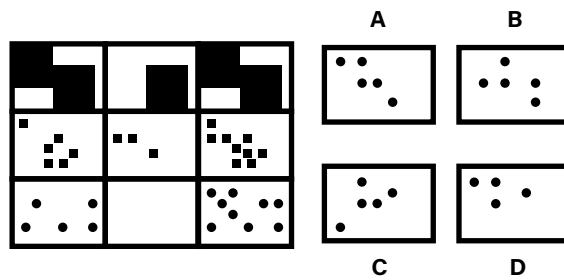
9.



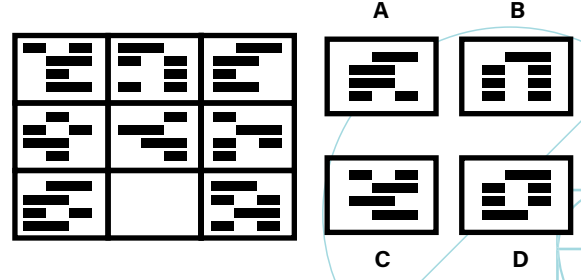
10.



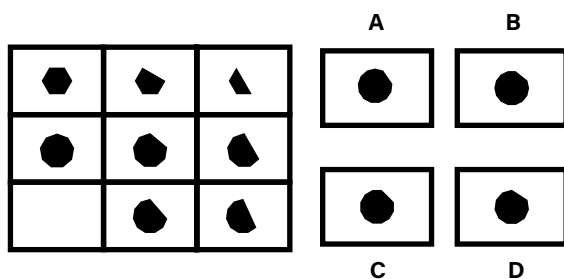
11.



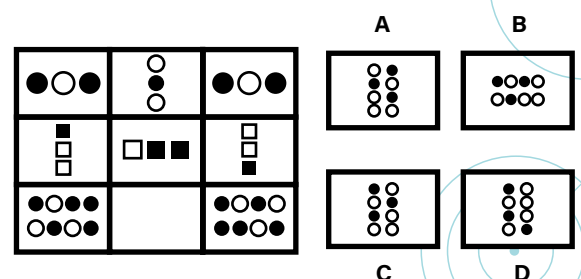
12.



13.



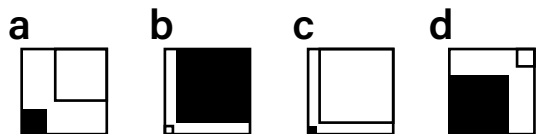
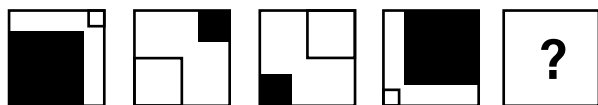
14.



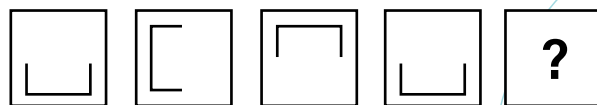
Sèries

Indica quina de les següents imatges completa millor la sèrie proposada:

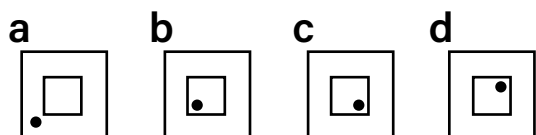
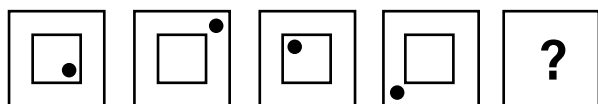
1.



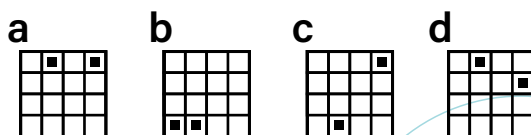
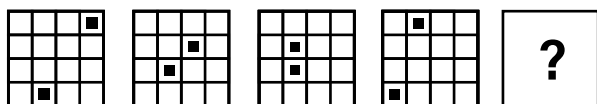
2.



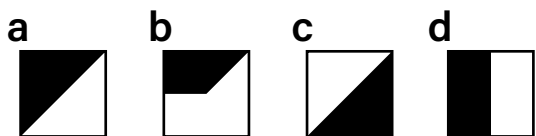
3.



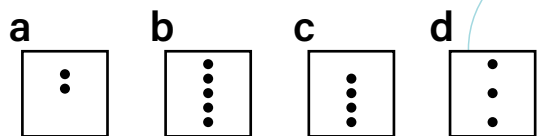
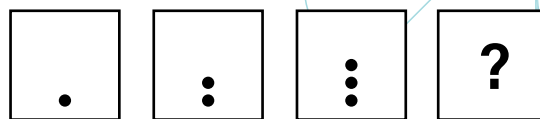
4.



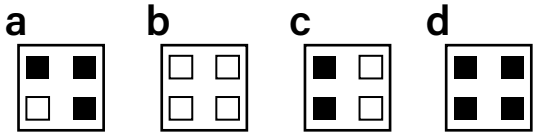
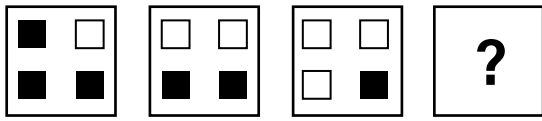
5.



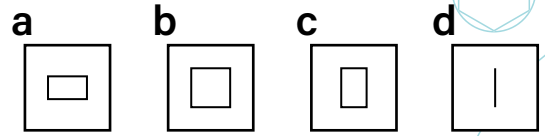
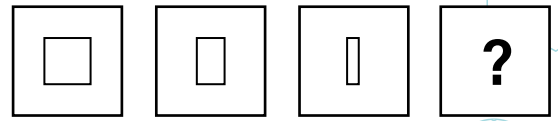
6.



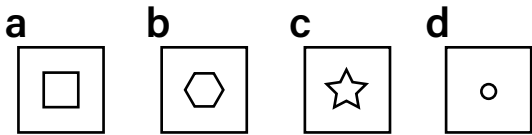
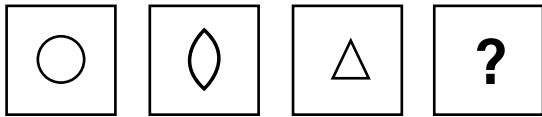
7.



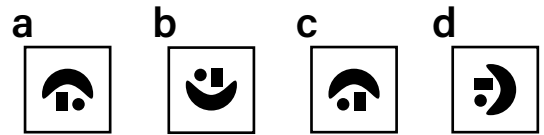
8.



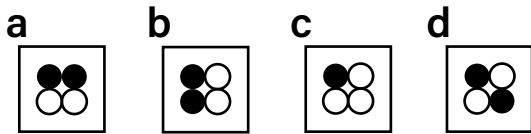
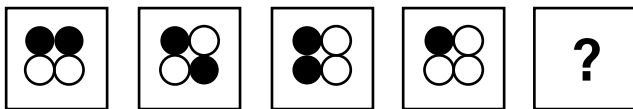
9.



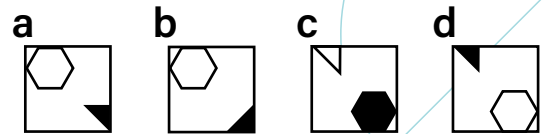
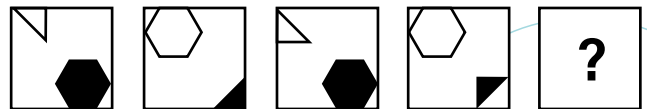
10.



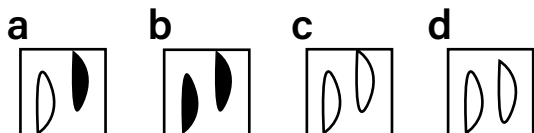
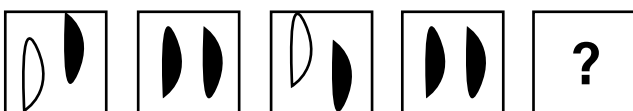
11.



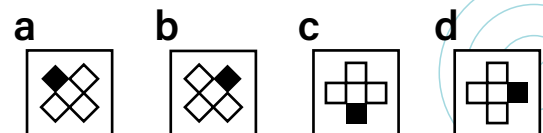
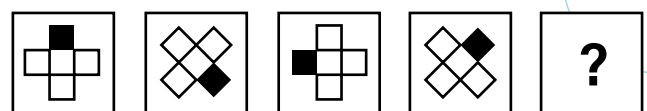
12.



13.





14.



Instruccions

A continuació, se li presentaran 80 preguntes de diferent tipus. En totes elles tindreu quatre alternatives de resposta, i **només una és la correcta**. Si us plau, contesteu a cada pregunta emplenant el requadre apropiat en el vostre **Full de respostes**:

| Instruccions sobre la manera de respondre | |
|---|---|
| CORRECTE  | INCORRECTE  |



Tingueu en compte que **els errors no penalitzen**, per tant, és recomanable que responeu totes les preguntes. La vostra tasca consistirà a triar l'alternativa que considereu correcta i anotar-la en el vostre **Full de respostes**.

Disposeu de 35 minuts per realitzar la prova. Treballeu el més ràpid possible. Si considereu que un exercici és difícil, no us encalleu i responeu la següent pregunta.

Podeu fer les anotacions o operacions que necessiteu a l'interior del quadernet.

A continuació, trobareu alguns exemples que us serviran d'entrenament.

Exemples

E-1. Quina paraula té un significat més semblant a BRILLANT?

- a) Llis b) Lluent c) Trencat d) Gran

La resposta correcta és la b) Lluent, ja que tots dos són estats físics associats a la llum reflexada per un objecte.

E-2. Escolliu la paraula que millor completi l'analogia: RODA és a COTXE el que ALA és a...

- a) Gos b) Carrer c) Avió d) Porta

La resposta correcta és la c) Avió, ja que les dues són parts funcionals d'un vehicle.

E-3. Un llenyataire triga 70 minuts en talar un bosc amb 7 pins. Si el bosc té 24 pins en total i porta treballant 3 hores, quants pins falten per talar?

- a) 4 b) 1 c) 9 d) 6

La resposta correcta és la d). Si tarda 10 minuts per pi ($70/7=10$), i 3 hores equivalen a 180 minuts, significa que porta podats 18 pins ($180/10=18$). Donat que hi ha 24 pins en total, finalment queda $24-18=6$.

E-4. S'han ofert participacions per a una cursa d'atletisme a 300 esportistes de Catalunya. No obstant això, només 140 esportistes estaven interessats a assistir-hi. En la següent taula es presenta la distribució dels treballadors per grup i el nombre d'assistents.

| | Van acudir a la cursa | |
|--------|-----------------------|----|
| | Si | No |
| Grup 1 | 17 | 21 |
| Grup 2 | 34 | 42 |
| Grup 3 | 53 | 77 |
| Grup 4 | 36 | 20 |

Quants esportistes van acudir del total dels grups 1 i 3, i quants no van acudir del total dels grups 2 i 4?

- a) 70 i 62 b) 98 i 70 c) 130 i 132 d) 17 i 62

La resposta correcta és la a). Donat que 17 (Grup 1 Si) + 53 (Grup 3 Si) = 70 , i 42 (Grup 2 no) + 20 (Grup 4 no) = 62 .

E-5. Quants símbols iguals a aquest E hi ha en la següent sèrie?

| | | | | | | | | | | | | | | | | | | |
|---|---|---|---|---|---|---|---|---|---|---|---|---|---|---|---|---|---|---|
| E | F | E | E | F | E | F | E | F | E | E | F | E | F | F | E | E | F | E |
|---|---|---|---|---|---|---|---|---|---|---|---|---|---|---|---|---|---|---|

- a) 17 b) 12 c) 15 d) 11

La resposta correcta és la lletra d). Hi ha onze símbols E dins la sèrie.

E-6. Resoleu l'exercici utilitzant la informació que es presenta en la següent taula de correspondències entre nombres i símbols.

| | | |
|---|---|---|
| T | W | V |
| 7 | 6 | 5 |

E-6.1. Quantes correspondències CORRECTES hi ha en la següent taula?

| | | |
|---|---|---|
| H | T | T |
| 5 | 6 | 7 |

a) 1

b) 2

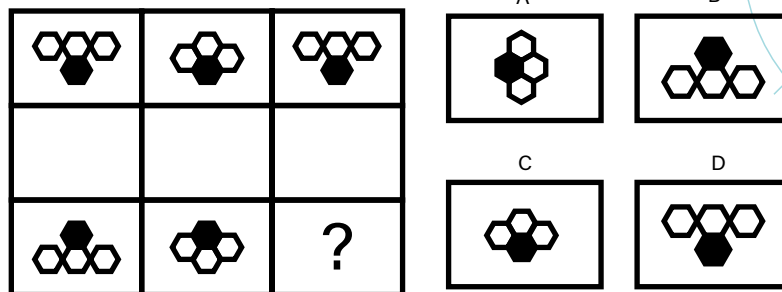
c) 0

d) 3

La resposta correcta és la a). Hi ha una correspondència correcta a la taula.

*Tingueu en compte que hi hauran preguntes en les quals haureu d'indicar quantes correspondències són INCORRECTES.

E-7. Trieu la imatge que completa millor la sèrie:



La resposta correcta és la lletra B). La fila 3 és oposada a la fila 1. A la primera fila i tercera columna, la figura mostra que l'hexàgon negre apunta cap avall, per tant, en invertir-lo l'hexàgon negra ha d'apuntar cap amunt.

DA VINCI

PSICOTÈCNICS

per opositors

PREPARA'T, SUPERA'T, EVOLUCIONA.

DA VINCI PSICOTÈCNICS t'ofereix la preparació més completa i actualitzada per superar amb garanties les proves psicotècniques de les oposicions a la policia.

Aquest dossier és una eina imprescindible per entrenar i potenciar les teves capacitats aptitudinals. El contingut s'ha estructurat en diferents blocs de raonament juntament amb simulacres basats en proves oficials de **Mossos d'Esquadra i Guàrdia Urbana de Barcelona**.

Entrena la teva ment, millora les teves habilitats i afronta cada prova amb més seguretat, agilitat i confiança.

En aquest llibre trobaràs els següents exercicis per convertir el teu potencial en resultats reals:



RAONAMENT VERBAL

És la capacitat d'entendre i relacionar paraules i conceptes.



RAONAMENT ABSTRACTE

El raonament abstracte és identificar patrons i relacionar elements per trobar una solució.



RAONAMENT NUMÈRIC

És la capacitat d'interpretar, relacionar i resoldre operacions i problemes amb nombres, càlculs i sèries numèriques.



ATENCIÓ I PERCEPCIÓ

En els psicotècnics, l'atenció i percepció permeten detectar detalls, diferències i errors de manera ràpida i precisa per resoldre correctament els exercicis.



SIMULACRES D'EXAMEN

Els simulacres d'examen permeten practicar en condicions reals, millorar la gestió del temps i identificar punts forts i febles.

EL MANUAL MÉS COMPLET PER SUPERAR
LES PROVES PSICOTÈCNiques POLICIALS



iOposACADÈMIA

Molt més que una *acadèmia*.
Converteix el teu estudi en
un progrés real.

CONTACTA'NS

(+34) 930 467 276 / (+34) 644 507 478

info@iopos.es

www.iopos.es

iOposACADÈMIA



“
La saviesa és filla
de l'experiència.

Leonardo da Vinci

”